

نام و نام خانوادگی :

پایه پنجم ابتدایی

ارزشیابی ریاضی / ۷

۱- نسبتی مساوی  $\frac{۷}{۱۳}$  بنویسید که مجموع صورت و مخرج آن مساوی ۵۷ باشد.

۲- یک پیراهن که قیمت آن ۹۰۰۰۰ تومان بود، فروشنده از ما ۸۱۰۰۰ تومان گرفت :

الف - فروشنده چند تومان تخفیف داده است ؟

ب) فروشنده چند درصد تخفیف داده است ؟

۳- ۸۰٪ عددی ۳۲ است آن عدد را پیدا کنید ؟

۴- نسبت پول زهرا به برادرش ۲ به ۵ است . اگر اختلاف پول آن ها ۶۰۰ ریال باشد، پول هر یک را حساب کنید ؟


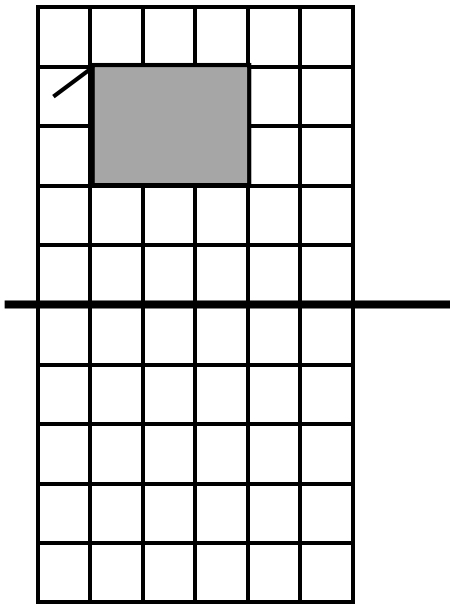
۵- کتاب داستان نیلوفر ۳۰۰ صفحه دارد او ۷۰٪ کتابش را خوانده است :

الف) چند صفحه را خوانده است ؟

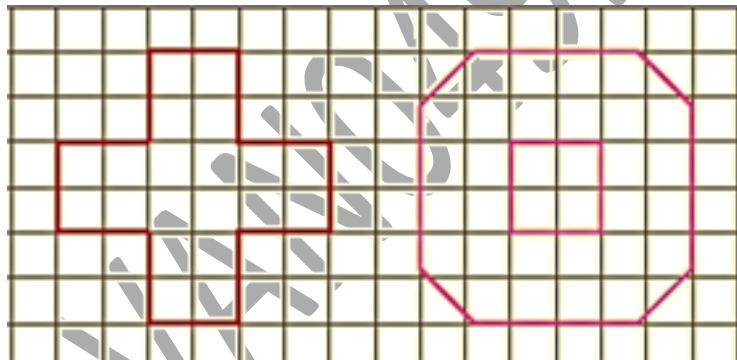
ب) چند صفحه دیگر باید بخواند تا کتاب تمام شود ؟

۶- حسن چهار میلیون و پانصد هزار تومان پول دارد . او ۸۰٪ آن را خرج کرده چقدر برایش مانده است ؟

۷- قرینه هر شکل را نسبت به خط تقارن پیدا کنید .



۸- در هر شکل زیر با رسم خط های تقارن هر شکل مساحت کل شکل را با شمارش خانه ها حساب کنید .



۹- قرینه هر شکل را نسبت به مرکز تقارن بکشید .

