

۱- جدول زیر را کامل کنید .

عدد صحیح			عدد اعشاری			بارقم	با حروف
صدگان	دهگان	یکان	دهم	صدم	هزارم		
							دو و نهصد و سه هزارم
						۰/۸۱۴	
							دوازده ممیز شصت هزارم
						۳۰/۰۷	

۲- جای خالی را پر کنید .

- ۳۰ تا ۰/۰۰۱ می شود
 ۳۷۲ سانتی متر یعنی متر
 ۲۵۶ گرم یعنی کیلو گرم
 ۳۱/۰۶ متر یعنی سانتی متر
 ۱۲ میلی متر یعنی متر
 ۴۸ تا ۰/۱ می شود

۳- عددا اعشاری را گسترده و کسر ها را به صورت اعشاری بنویسید .

$$۲۵/۰۰۸ =$$

$$۰/۶۳۹ =$$

$$۵ + \frac{۳}{۱۰} + \frac{۲}{۱۰۰} + \frac{۱}{۱۰۰۰} =$$

۴- در الگوی زیر سه عدد بعدی را بنویسید .

..... و و و ۰/۹۱ و ۰/۹۰۵ و ۰/۹

۵- با توجه به اعداد داده شده به سوالات پاسخ دهید .

$$۰/۷ - ۰/۴۸ - ۱/۳۲ - ۱/۷ - ۰/۳ - ۰/۹ - ۱/۰۱ - ۲/۴ - ۰/۱۵ - ۱/۵۶ - ۲/۰۲ - ۱/۶۳$$

الف) اعداد بین ۰/۵ و ۱/۵ کدامند ؟

ب) بین اعداد ۱ و ۲ کدام اعداد قرار دارند ؟

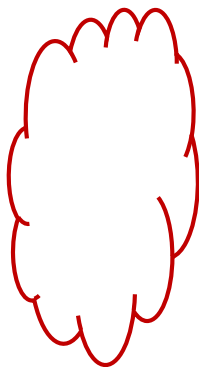
۶- سه عدد بین دو عدد زیر بنویسید .

$۶۳/۰۲$ و و و $۶۳/۰۳$

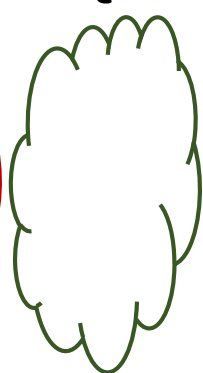
۷- عدد های زیر را یک بار جمع و یک بار تفریق کنید .

$۴/۹۶$ و $۶/۹$

تفریق




جمع




$۱/۹۳۱$ و ۵

تفریق



جمع



۸- مادر سارا برای روپوش او $۲/۱۵$ متر پارچه خرید . قبل از دوختن پارچه را شست . طول پارچه $۱/۹۰$ متر شد . چقدر از پارچه آب رفته است ؟

۹- محیط یک مثلث ۵ سانتی متر اگر طول دو ضلع آن به ترتیب برابر با $۱/۷۲$ و $۲/۰۹$ سانتی متر باشد طول سوم را حساب کنید . (شکل مثلث را رسم کنید)

۱۰- تفریق زیر را روی محور نشان دهید .

$$۲/۳ - ۱/۵ =$$