

۱- عدد پنجاه و دو میلیارد و سه میلیون و چهارده هزار و شش را به عدد بنویسید و به سوالات پاسخ دهید .
- با رقم بنویسید =

- این عدد چند رقم دارد ؟

- در مرتبه دهگان هزار چه عددی قرار دارد ؟

- عدد دو در چه مرتبه و طبقه ای قرار دارد ؟


۲- اعداد زیر را با هم مقایسه کنید و علامت مناسب بگذارید .

۳۱۷۵۲۸۳۵۰۰۰ ۳۱۷۰۲۸۳۵۰۰۰


۷۰۰۴۱۰۰۰۲۶ ۷۰۰۴۱۰۰۰۰۶

۳- مادر مریم برای پخت حلوی نذری ۴ کیلو و ۸۰۰ گرم آرد و ۲ کیلو و ۹۰۰ گرم شکر خریده است . مریم می خواهد حساب کند که مادرش روی هم چند کیلو گرم آرد و شکر خریده است ؟ شما چگونه به مریم کمک می کنید تا راحت این کار را انجام دهد ؟

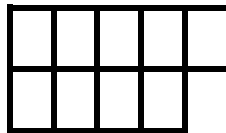
۴- با توجه به شکل ، الگوی چهارم را رسم کنید و محاسبه کنید شکل هفتم از چند مربع درست شده است ؟



شکل ۱



شکل ۲



شکل ۳

؟

شکل ۴

۵- حسین و برادرش ساعت ۳۰ : ۵ : ۸ به پارک رفتند و ساعت ۴۰ : ۱۱ به خانه برگشتند. آنها چه مدت مشغول بازی در پارک بودند؟

۶- امیر علی در تاریخ ۲۰ شهریور سال ۱۳۷۹ متولد شده است. او می خواهد حساب کند که در ۱۲ آبان سال ۱۳۹۴ چند سال و چند ماه و چند روز خواهد داشت؟ او را راهنمایی کنید که این کار را با دقت انجام دهد.

۷- فاطمه نمی داند عدد ۷۹۸۹۴۰۲۶۴۰۲ چند رقم دارد و چگونه به حروف نوشته می شود لطفا به او کمک کن تا این کار را انجام دهد؟